

Ficha_de_trabajo_2016_semana12_As

Memoria y edad

El funcionamiento de la memoria suele resentirse con la edad. 1
Alrededor de la quinta década de la vida, ya algunas personas 0
experimentan dificultades con su funcionamiento y, con relativa 2
frecuencia, les cuesta recordar fechas señaladas, nombres de 2
personas conocidas o pequeños actos cotidianos, como dónde han 0
puesto las gafas o las llaves, por ejemplo. 1





















Esta circunstancia suele alarmar; sin embargo, es un suceso muy 0
común, al que no debe concederse una importancia desmedida, 0
aunque sí es conveniente atender a su evolución, que en la mayor 0
parte de los casos responde a un patrón denominado "pérdida de 0
memoria asociada a la edad". 0

Algunas de las dificultades más frecuentes tienen su origen en que 2
muchos actos rutinarios se realizan mecánicamente, sin prestarles 0
la atención debida. Por ello, resulta más fácil de recordar lo 1
extraordinario o inesperado que lo cotidiano. En estos casos, la 0
mejora de la memoria pasa por acrecentar el grado de atención 0
prestado a todo aquello que nos rodea. 0

**Escriba a la derecha cuántas veces aparece la letra f (efe) en cada 9
línea y súmelas después.**

Ficha_de_trabajo_2016_semana12_Bs

Teniendo en cuenta la letra equivalente a cada signo
escriba a la derecha las palabras resultantes.

				=	O	C	A	S
				=	S	A	C	O
				=	C	O	S	A
				=	A	S	C	O
				=	C	A	O	S

Con las letras de arriba
que no están abajo
escriba el nombre de un río.

.....

Q	W	E	R	C
T	Y	U	I	
O	P	Ñ	L	K
J	H	G	F	
D	S	A	Z	X

S	H	Y	F	
I	P	U	K	
L	Z	C	Ñ	
X	W	Q	G	
E	R	D	U	

Averigüe la letra inicial de cada
palabra y descubra con ellas el
nombre de un país y su capital.

Tuno
Aparte
Integro
Idea
Lejía
Acera
Madera
Oreja
Recado
Manta

Italia / Roma

Ficha_de_trabajo_2016_semana12_Cs

Complete los números que faltan en las siguientes operaciones.

$$8 + 2 + 10 + 5 + 8 + \underline{1} + 6 + 3 = 33$$

$$\underline{7} + 1 + 2 + 6 + 5 + 9 + 4 + 8 = 42$$

$$6 + 4 + 9 + 3 + 5 + 1 + 2 + \underline{10} = 40$$

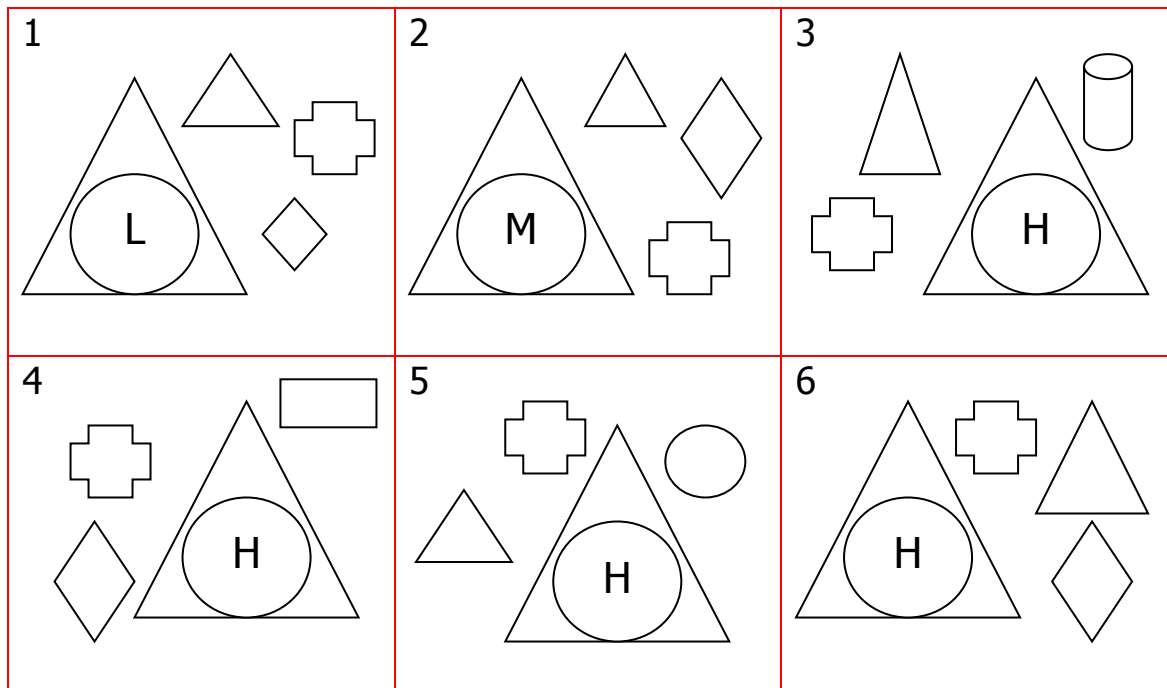
Lea atentamente el siguiente texto y conteste las preguntas intentando no leerlo de nuevo.

Carmen salió temprano de casa, acompañada de su vecina Pilar. El día estaba muy soleado, pero aún hacía un poco frío, pues corría el mes de octubre. Llegaron a la estación y tomaron el tren de las 8,30. Iban a visitar a la hermana de Pilar, Lucía, que vivía a tan solo 10 kilómetros de distancia. Querían felicitarla por su 80 cumpleaños y llevaban una estupenda tarta, hecha por ellas mismas, para celebrarlo

¿Quiénes salieron temprano? Carmen y Pilar ¿Cómo estaba el día? soleado ¿Qué mes corría? Octubre
¿Dónde llegaron? a la estación A qué hora cogieron el tren? a las 8,30 ¿A quién querían visitar? a Lucía ¿De quién era hermana? de Pilar ¿A qué distancia vivía? a 10 kilómetros
¿Por qué querían felicitarla? por su cumpleaños ¿Cuántos años cumplía Lucía? 80 ¿Qué llevaban Carmen y Pilar? una estupenda tarta, hecha por ellas mismas

Ficha_de_trabajo_2016_semana12_Ds

Imagine dos triángulos y dentro del más grande un círculo que contiene la letra H, todo ello dentro de un cuadrado donde, además, hay dibujado una cruz y un círculo. Señale el número del cuadro inferior correspondiente a esta descripción. **5**



Señale los números que pueden dividirse por 3 y compruebe que su suma da como resultado 111.

<u>24</u>	<u>12</u>	23	<u>6</u>	20	17	<u>3</u>	8	1
16	5	<u>21</u>	7	26	4	14	32	
31	<u>27</u>	11	22	13	28	<u>18</u>		

Comienza por D y significa deshacer, arruinar.

¿Qué palabra es? D e s t r u i r