

Ficha\_de\_trabajo\_2016\_semana21\_A

### **Materiales de estimulación cognitiva I...**

Los materiales de estimulación cognitiva favorecen la actividad .....  
mental y ponen en marcha nuevas destrezas y competencias .....  
personales; por lo que se recomienda su utilización a quienes .....  
deseen mantener un buen funcionamiento intelectual. ....

Hasta no hace muchos años, estos materiales se orientaban .....  
exclusivamente al ámbito de las alteraciones neurológicas. En la .....  
actualidad, gana adeptos su vertiente preventiva y de promoción .....  
de la salud psíquica. ....

El cambio obedece a la evidencia de su contribución en la mejora .....  
del funcionamiento de la memoria, una de las capacidades más .....  
negativamente afectadas por el paso de los años. ....

Un mal funcionamiento de la memoria reduce en gran medida la .....  
independencia y la autonomía personal, razón por lo que su .....  
cuidado resulta fundamental si quiere preservarse la calidad de .....  
vida en la vejez. ....



**Escriba a la derecha cuántas veces aparece la letra p en cada línea .....  
y súmelas después. ....**

Ficha\_de\_trabajo\_2016\_semana21\_B

**Descubra la palabra que corresponde a esta definición (comienza por a)**

**Complacer, contentar.** \_\_\_\_\_

**Reproduzca a la izquierda el dibujo de la derecha.**



**Uno de estos números no tiene pareja,  
escriba en el cuadro vacío de cual se trata.**

116   120   152   141   156   140   173   150   118   162   155   172  
171   148   180   117   160   173   148   135   175   116   179   132  
132   175   137   163   180   118   162   152   141   171   156   163  
160   117   179   120   155   172   135   181   137   150   140  

**Escriba 12 palabras que comiencen con la letra a y acaben con n.**

\_\_\_\_\_

\_\_\_\_\_

\_\_\_\_\_

\_\_\_\_\_

\_\_\_\_\_


\_\_\_\_\_

\_\_\_\_\_

\_\_\_\_\_

Ficha\_de\_trabajo\_2016\_semana21\_C

Complete el nombre de cinco ciudades europeas utilizando, una sola vez, todas las letras del cuadro izquierdo. En los espacios vacíos puede colocarse más de una letra.



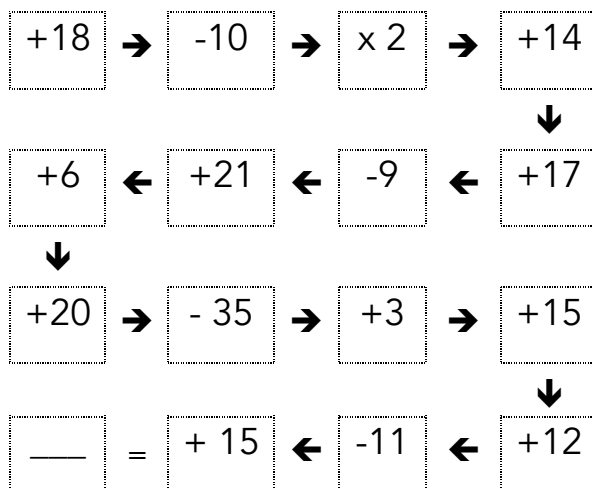
\_\_\_ S \_\_\_ O C \_\_\_ M \_\_\_  
\_\_\_ R U \_\_\_ L A \_\_\_  
B \_\_\_ R L \_\_\_  
\_\_\_ E N A \_\_\_  
\_\_\_ O \_\_\_ R E \_\_\_

Convierta estas palabras en otras nuevas.

PARLABA    CADERA    ENCUADRO    POSTURAL    ESPERAD    CURADO

\_\_\_\_\_

Complete la operación siguiendo el sentido de las flechas



¿Si mañana es domingo 30 de mayo, que día fue anteayer?

\_\_\_\_\_

¿Cuánto tiempo ha transcurrido entre las 12,30 y las 21,45?

\_\_\_\_\_

Ficha\_de\_trabajo\_2016\_semana21\_D

**Subraye de izquierda a derecha  
tres números consecutivos que sumen 25.**

1 10 4 20 2 6 15 11 3 21 6 12 4 9 22 3 13  
20 8 6 11 14 10 7 12 17 7 9 11 16 2 9 14 17  
10 7 9 22 11 6 3 12 10 18 2 4 13 16 7 2 14  
17 3 5 1 18 4 10 9 4 20 1 18 3 5 15 6 12

**Forme dos palabras distintas con cada grupo de letras desordenadas.**

**ROMTE**

**ATERRAC**

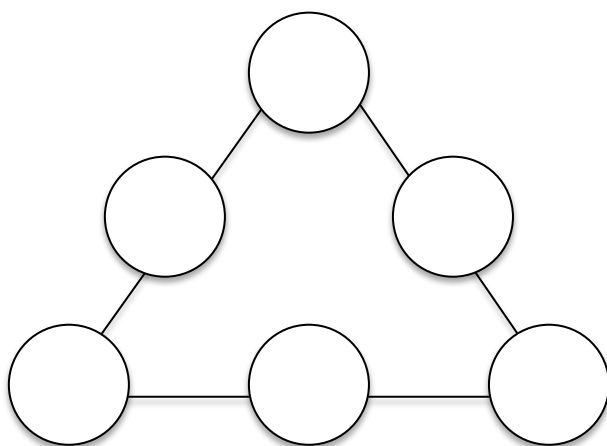
**SPOMAC**

**RPEAAS**

**EPORRTO**

\_\_\_\_\_

\_\_\_\_\_



**Coloque dentro de los  
círculos los números  
6, 10, 16, 20, 24 y 30  
de forma que todos  
los lados del triángulo  
sumen 60.**

**(Hay más de  
una solución)**