

Ficha_de_trabajo_2016_semana34_As

Estereotipos sobre la vejez

Los estereotipos negativos sobre las personas mayores son 1
ideas preconcebidas con poca razón de ser, pues no se 0
corresponden con la realidad o lo hacen de un modo 0
sesgado. 1

Con frecuencia, los mayores son considerados como un 0
sector de población en el que priman las personas pasivas, 0
olvidadizas, malhumoradas, solas, enfermas o dependientes. 0

Pero los mayores actuales se encuentran lejos de un modelo 0
más propio de épocas pasadas, cuando las condiciones de 0
vida en esta etapa vital eran mucho menos favorables. 0

Hoy los mayores son participantes activos del tejido social, 0
al tiempo que beneficiarios de su desarrollo. Es preciso 0
rechazar las falsas creencias que rodean el envejecimiento, 0
pues aceptarlas supone un freno que impide alcanzar un 0
envejecimiento activo. 0

Escriba a la derecha cuántas veces aparece la letra g (ge) en cada 2
línea y súmelas después.

Ficha_de_trabajo_2016_semana34_Bs

Clasifique las siguientes palabras en cuatro grupos diferentes
y ponga nombre a cada uno de ellos.

Sardina, encina, merluza, león, salmón, palmera, pino, garza,
piraña, pantera, lince, buitres, águila, tigre, gaviota, arce.

PECES

ÁRBOLES

FIERAS

AVES

Sardina

Encina

León

Garza

Merluza

Palmera

Pantera

Buitre

Salmón

Pino

Lince

Águila

Piraña

Arce

Tigre

Gaviota

¿Cuánto suman los números
que se repiten nueve veces?

72

<u>1</u>	8	<u>3</u>	9	<u>1</u>	<u>3</u>	8
<u>4</u>	6	<u>1</u>	8	5	<u>4</u>	2
7	8	2	<u>3</u>	<u>1</u>	<u>4</u>	<u>3</u>
5	<u>1</u>	9	6	2	<u>3</u>	<u>1</u>
<u>4</u>	5	<u>1</u>	8	<u>4</u>	8	9
7	<u>4</u>	6	2	<u>3</u>	5	9
<u>3</u>	2	8	6	<u>1</u>	2	5
7	<u>1</u>	2	<u>4</u>	<u>3</u>	8	<u>4</u>
5	7	<u>4</u>	6	2	6	<u>3</u>

Tache las letras repetidas y con
el resto descubra un planeta.

J U P I T E R

C	W	U	O	P
T	V	S	D	F
G	H	K	L	I
O	A	Z	Y	Ñ
E	Z	F	S	X
H	D	Y	G	A
V	L	S	H	W
Ñ	F	K	J	D
D	R	A	X	C

Ficha_de_trabajo_2016_semana34_Cs

Coloree la palabra mente y escriba cuántas veces se repite. 5

Frente	Suerte	Fuente	Fuerte	Mente	Diente
Mente	Diente	Puente	Fuente	Fuerte	Frente
Puente	Mente	Fuente	Diente	Suerte	Fuerte
Diente	Fuerte	Mente	Frente	Diente	Puente
Frente	Suerte	Fuente	Suerte	Puente	Mente

Coloque el número adecuado para que todas las operaciones sean correctas.

$$17 + \underline{23} + 28 + 32 = 100$$

$$10 + 24 + \underline{35} + 41 = 110$$

$$\underline{14} + 21 + 32 + 53 = 120$$

$$22 + 22 + 37 + \underline{49} = 130$$

$$18 + \underline{27} + 35 + 60 = 140$$

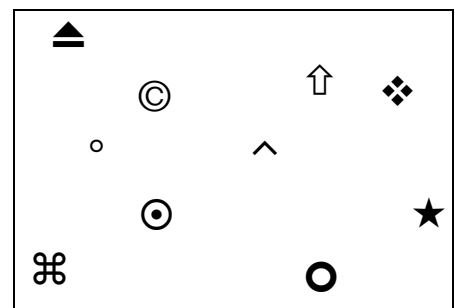
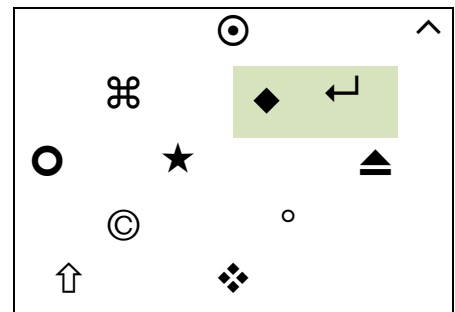
$$19 + 24 + \underline{42} + 65 = 150$$

$$14 + 41 + 49 + \underline{56} = 160$$

$$\underline{32} + 35 + 45 + 58 = 170$$

$$40 + \underline{42} + 47 + 51 = 180$$

Señale los signos del cuadro superior que no están en el inferior.




Ficha_de_trabajo_2016_semana34_Ds

Subraye la fila idéntica al modelo superior.

	1	X	3	E	7	8	M	4	6	P	1	5	6	8	9	J	0
1 ^a	1	X	3	E	7	8	H	4	6	P	1	5	6	8	9	J	0
2 ^a	1	X	3	E	7	8	M	4	6	P	1	5	6	0	9	J	0
3 ^a	1	Z	3	E	7	8	M	4	6	P	1	5	6	8	9	J	0
4 ^a	1	X	3	E	7	8	M	4	6	B	1	5	6	8	9	J	0
5 ^a	1	X	3	E	7	8	M	4	6	P	1	5	6	8	9	U	0
6 ^a	1	X	3	E	7	8	M	4	6	P	1	5	5	8	9	J	0
7 ^a	1	X	3	E	7	8	M	4	6	P	1	5	6	8	9	J	0
8 ^a	1	X	3	E	7	8	M	4	6	P	1	5	6	8	9	J	6

Escriba dentro de las figuras inferiores el número de formas iguales dibujadas arriba.



9	7	7	8	5
---	---	---	---	---