

Ficha_de_trabajo_2016_semana35_A

Memoria y capacidad de adaptación

La memoria suele considerarse una competencia mental de segundo
orden, cuando en realidad forma parte de un complejo proceso
cognitivo de singular importancia en la capacidad adaptativa de la
especie humana.

El entorno es sumamente variable y experimenta continuas
transformaciones y, ante hechos fortuitos, es indispensable saber
conducirse con acierto. La memoria, como depósito de experiencia
acumulada, ha servido siempre de guía de conducta en estos casos.

Las comunidades sustentadas en una vasta tradición oral muestran un
profundo reconocimiento hacia las personas mayores. En situaciones
extremas, el recuerdo de circunstancias similares por su parte puede
entrañar la supervivencia material del grupo.

De este modo, la memoria ha permitido afrontar enormes desafíos en
condiciones adversas para la vida. De ahí se deriva un proverbio
africano que afirma "Cuando un anciano muere, desaparece una
biblioteca".

**Escriba a la derecha cuántas veces aparece la letra h (hache) en cada
línea y súmelas después.**

Ficha_de_trabajo_2016_semana35_B

Descubra una larga palabra colocando la letra C en los cuadros 4 y 15;
la D en el 8; la E en el 1, 3 y 11; la I en el 15; la L en el 2; la M en el 10;
la O en el 7, 9 y 16; la R en el 6; la S en el 12 y la T en el 5 y el 13.

1	2	3	4	5	6	7	8	9	10	11	12	13	14	15	16
---	---	---	---	---	---	---	---	---	----	----	----	----	----	----	----

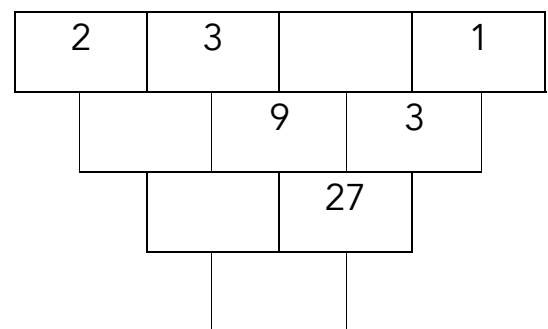
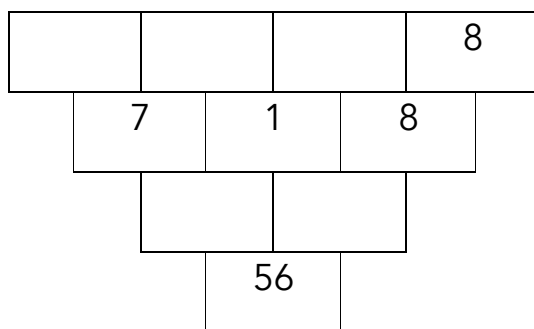
Señale los números que pueden dividirse por 4.

24 18 21 14 52 11 34 80 22 16 26 20 27 42
10 36 34 46 38 22 28 54 48 62 30 73 78 84

Escriba nombres de alimentos cuya inicial sea la letra indicada.

A	_____	B	_____	C	_____
E	_____	F	_____	G	_____
P	_____	Q	_____	R	_____

Rellene los cuadros vacíos sabiendo que el número de cada casilla es el resultado de multiplicar los dos que tiene encima.



Ficha_de_trabajo_2016_semana35_C

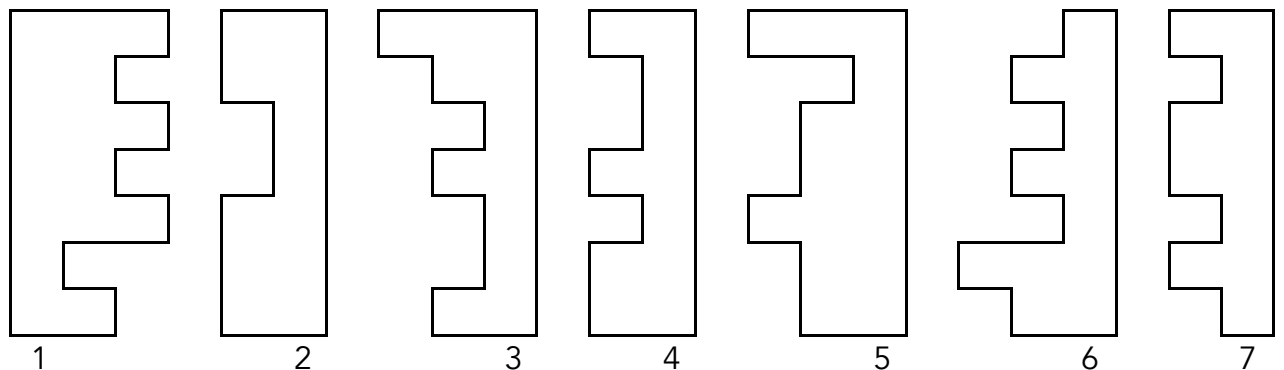
Las palabras de la columna izquierda se relacionan con una de las escritas a su derecha. Señale cual.

Televisor	Calle	Blusa	Nube	Antena
Mesa	Sol	Ventana	Patas	Radio
Fruta	Cuadrado	Kiwi	Cesta	Bolso
Hilo	Aguja	Cable	Rueda	Portal
Sombrilla	Traje	Playa	Vaso	Casa
Dinero	Lápiz	Regla	Plástico	Monedero
Despensa	Cocina	Pala	Baraja	Camino

Ordene estas palabras para formar una frase de Lázaro Carreter.

El pensamiento del andamiaje el es lenguaje.

Indique qué figura forma un rectángulo con la número 1



Ficha_de_trabajo_2016_semana35_D

Indique cuáles de estas operaciones son incorrectas. -----

- a) $6 + 1 + 7 + 3 + 2 + 9 + 4 + 8 = 40$
- b) $5 + 2 + 8 + 4 + 4 + 7 + 0 + 6 = 36$
- c) $4 + 3 + 9 + 5 + 6 + 5 + 2 + 4 = 36$
- d) $3 + 4 + 1 + 7 + 8 + 3 + 3 + 2 = 31$
- e) $2 + 5 + 2 + 8 + 3 + 1 + 9 + 1 = 30$
- f) $1 + 6 + 3 + 9 + 1 + 0 + 5 + 3 = 28$

Repase cada línea con un color diferente
y averigüe el destino de los viajeros.

