

Ficha_de_trabajo_2017_semana03_A

Mnemósine, símbolo de la memoria

Mnemósine es el personaje de la mitología griega que representa la
memoria. Se trata de una titánide (femenino de titán), poderosa raza de
dioses que gobernó en la remota edad de oro griega.

Para los griegos, la memoria diferenciaba a los humanos del resto de
seres vivos; consideraban que las bases de la civilización se asentaban en
ella.

Mnemósine gozaba, por tanto, de un amplio reconocimiento: *sabe todo
lo que ha sido, es y será; posee el conocimiento de los orígenes y de las
raíces, poder que traspasa los límites del más allá.*

De su relevancia da cuenta el hecho de que Zeus, padre de dioses y
hombres, se uniera a ella. El nacimiento de las nueve musas es resultado
de esta alianza.

A estas figuras mitológicas, sumamente sabias, se les atribuye el dominio
del conocimiento y, por tanto, se las considera las generadoras del arte y
la cultura en sus diversas manifestaciones.

**Escriba a la derecha cuántas veces aparece la letra h (hache) en cada
línea y súmelas después.**

Ficha_de_trabajo_2017_semana03_B

Una sílabas de la filas 1ª, 2ª y 3ª, en este orden,
sin repetir ninguna, para formar 10 palabras con significado.

1ª	PAN	RE	SA	CUA	CAN	PE	SI	CAR	COR	PA
2ª	RE	GU	SE	TA	TI	TE	QUE	DER	LE	VIS
3ª	RA	NA	RO	TA	TE	BRE	LÓN	NA	NO	RO

El cuadro izquierdo es una copia del derecho.
Descubra los errores cometidos al copiarlo.

1	2	3	4	5	6	7	8	9
9	8	7	6	5	4	3	2	1
2	3	4	5	6	7	8	9	0
0	9	8	7	6	5	4	3	2
3	4	5	6	7	8	9	0	1
1	0	9	8	7	6	5	4	3
4	5	6	7	8	9	0	1	2

1	2	3	4	5	6	7	8	9
9	6	7	6	5	4	3	2	1
2	3	4	5	8	7	8	9	0
0	9	8	7	6	5	4	3	2
3	4	5	8	7	8	9	0	1
1	0	9	8	7	6	6	4	3
4	5	6	7	8	9	0	1	2

Realice sucesivamente las operaciones indicadas y rellene cada cuadro.

	+ 6	- 3	+ 4	- 2	+ 5	+ 6	- 7	+ 9
<u>20</u>	<input type="text"/>	<input type="text"/>	<input type="text"/>	<input type="text"/>	<input type="text"/>	<input type="text"/>	<input type="text"/>	<input type="text"/>
<u>45</u>	<input type="text"/>	<input type="text"/>	<input type="text"/>	<input type="text"/>	<input type="text"/>	<input type="text"/>	<input type="text"/>	<input type="text"/>

Ficha_de_trabajo_2017_semana03_C

Encuentre los siguientes grupos de letras en el cuadro inferior
y escriba debajo de ellos el número de veces que aparecen.

AGLPX BFNOZ DHJPO KMRTV EÑSYC

BFNOZ	DHJPO	DHJPO	BFMOZ	BFNOZ	DHJPO
KMETV	AGLPX	AGLPZ	DÑSYC	DHJPO	BFNOZ
EÑUYC	EÑSYO	BFNOZ	AGLPX	AGLBX	DHJLO
AGLPX	DHJPO	ACLPX	BFNOX	EÑSYC	KMRTV
EÑSPG	EÑLYC	AGLPX	BFNOZ	DHIPO	AFNOZ
AGLIX	BFNOZ	THJPO	EHJPO	KNRTV	AGLPX
DHJPZ	KNRTV	KMRTV	BCNOZ	DVJPO	EMRTV
KMRTV	AÑSYC	AGNPX	KMRTX	EÑSYC	AGLVX
ETYYC	EÑSYC	EMSYC	EÑSYC	BFNOY	EÑSYC

Añada una letra para completar el nombre de las imágenes inferiores
y escriba en cada cuadro el numero que corresponde a cada uno.

A H C U _


A S L _ L

E T T A O _

A _ A P O T

O _ L O B

1



2



3



4



5

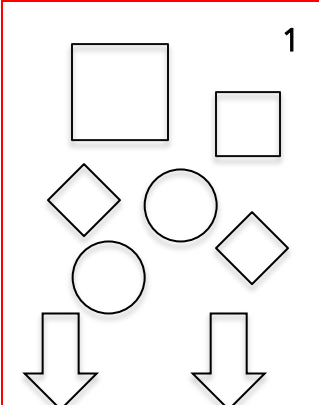
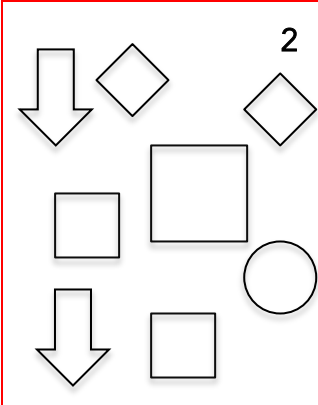
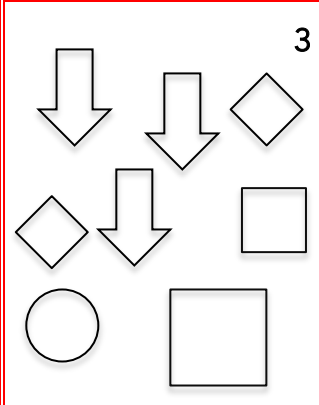
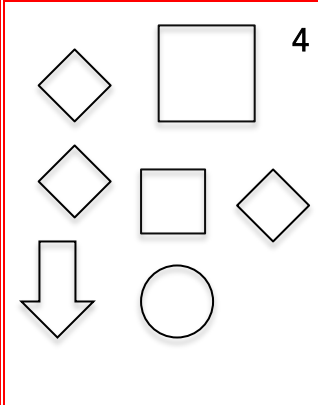
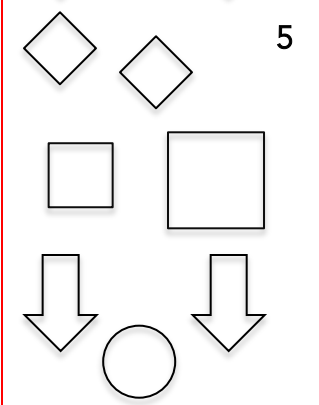
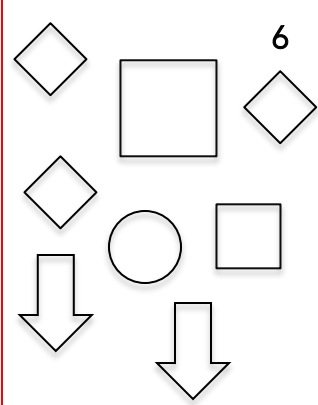
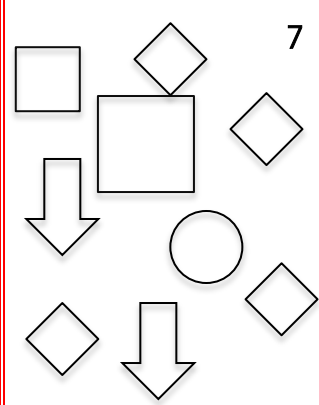
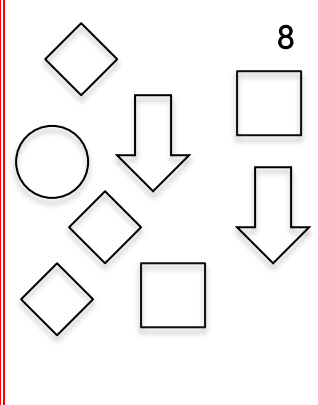


Ficha_de_trabajo_2017_semana03_D

¿Cuánto suman los números menores que 11? _____

20	27	49	35	43	9	47	5	21	15	29	18	14
9	51	6	22	7	31	34	13	50	41	6	10	30
42	6	32	9	33	24	8	10	9	39	19	8	17
7	38	6	12	8	8	37	25	45	7	46	26	40
36	54	53	23	52	44	7	16	10	28	5	48	51

Averigüe qué cuadro corresponde a la siguiente definición:
Contiene 2 cuadrados de distinto tamaño, 3 rombos, 1 círculo
y 2 flechas que miran hacia abajo. _____

 <p>1</p>	 <p>2</p>	 <p>3</p>	 <p>4</p>
 <p>5</p>	 <p>6</p>	 <p>7</p>	 <p>8</p>