

Ficha\_de\_trabajo\_2017\_semana03\_As

### ***Mnemósine, símbolo de la memoria***

Mnemósine es el personaje de la mitología griega que representa la memoria. Se trata de una titánide (femenino de titán), poderosa raza de dioses que gobernó en la remota edad de oro griega.

Para los griegos, la memoria diferenciaba a los humanos del resto de seres vivos; consideraban que las bases de la civilización se asentaban en ella.

Mnemósine gozaba, por tanto, de un amplio reconocimiento: *sabe todo lo que ha sido, es y será; posee el conocimiento de los orígenes y de las raíces, poder que traspasa los límites del más allá.*

De su relevancia da cuenta el hecho de que Zeus, padre de dioses y hombres, se uniera a ella. El nacimiento de las nueve musas es el resultado de esta alianza.

A estas figuras mitológicas, sumamente sabias, se les atribuye el dominio del conocimiento y, por tanto, se las considera las generadoras del arte y la cultura en sus diversas manifestaciones.

Escriba a la derecha cuántas veces aparece la letra h (hache) en cada línea y súmelas después.

Ficha\_de\_trabajo\_2017\_semana03\_Bs

Una sílabas de la filas 1ª, 2ª y 3ª, en este orden,  
sin repetir ninguna, para formar 10 palabras con significado.

1ª	PAN	RE	SA	CUA	CAN	PE	SI	CAR	COR	PA
2ª	RE	GU	SE	TA	TI	TE	QUE	DER	LE	VIS
3ª	RA	NA	RO	TA	TE	BRE	LÓN	NA	NO	RO

Pantalón

Canguro

Cartera

Salero

Paquete

Revista

Cuaderno

Pesebre

Sirena

Cortina

El cuadro izquierdo es una copia del derecho.

Descubra los errores cometidos al copiarlo.

1	2	3	4	5	6	7	8	9
9	<u>6</u>	7	6	5	4	3	2	1
2	3	4	5	<u>8</u>	7	8	9	0
0	9	8	7	6	5	4	3	2
3	4	5	<u>8</u>	7	8	9	0	1
1	0	9	8	7	6	<u>6</u>	4	3
4	5	6	7	8	9	0	1	2

1	2	3	4	5	6	7	8	9
9	6	7	6	5	4	3	2	1
2	3	4	5	8	7	8	9	0
0	9	8	7	6	5	4	3	2
3	4	5	8	7	8	9	0	1
1	0	9	8	7	6	6	4	3
4	5	6	7	8	9	0	1	2

Realice sucesivamente las operaciones indicadas y rellene cada cuadro.

	+ 6	- 3	+ 4	- 2	+ 5	+ 6	- 7	+ 9
<u>20</u>	<u>26</u>	<u>23</u>	<u>27</u>	<u>25</u>	<u>30</u>	<u>36</u>	<u>29</u>	<u>38</u>
<u>45</u>	<u>51</u>	<u>48</u>	<u>52</u>	<u>50</u>	<u>55</u>	<u>61</u>	<u>54</u>	<u>63</u>

Ficha\_de\_trabajo\_2017\_semana03\_Cs



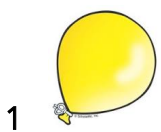
Encuentre los siguientes grupos de letras en el cuadro inferior  
y escriba debajo de ellos el número de veces que aparecen.

AGLPX      BFNOZ      DHJPO      KMRTV      EÑSYC  
5            6            4            3            5

<u>BFNOZ</u>	DHJPO	<u>DHJPO</u>	BFMOZ	<u>BFNOZ</u>	<u>DHJPO</u>
KMETV	<u>AGLPX</u>	AGLPZ	DÑSYC	<u>DHJPO</u>	<u>BFNOZ</u>
EÑUYC	EÑSYO	<u>BFNOZ</u>	<u>AGLPX</u>	AGLBX	DHJLO
<u>AGLPX</u>	<u>DHJPO</u>	ACL PX	BFNOX	<u>EÑSYC</u>	<u>KMRTV</u>
EÑSPG	EÑLYC	<u>AGLPX</u>	<u>BFNOZ</u>	DHIPO	AFNOZ
AGLIX	<u>BFNOZ</u>	THJPO	EHJPO	KNRTV	<u>AGLPX</u>
DHJPZ	KNRTV	<u>KMRTV</u>	BCNOZ	DVJPO	EMRTV
<u>KMRTV</u>	AÑSYC	AGNPX	KMRTX	<u>EÑSYC</u>	AGLVX
ETYYC	<u>EÑSYC</u>	EMSYC	<u>EÑSYC</u>	BFNOY	<u>EÑSYC</u>

Añada una letra para completar el nombre de las imágenes inferiores  
y escriba en cada cuadro el numero que corresponde a cada uno.

AHCH      ASLIL      ETTAOM      AZAPOT      O\_LOB  
5 Hucha    4 Silla    2 Tomate    3 Zapato    1 Globo



Ficha\_de\_trabajo\_2017\_semana03\_Ds

¿Cuánto suman los números menores que 11? 160

20	27	49	35	43	<u>9</u>	47	<u>5</u>	21	15	29	18	14
<u>9</u>	51	<u>6</u>	22	<u>7</u>	31	34	13	50	41	<u>6</u>	<u>10</u>	30
42	<u>6</u>	32	<u>9</u>	33	24	<u>8</u>	<u>10</u>	<u>9</u>	39	19	<u>8</u>	17
<u>7</u>	38	<u>6</u>	12	<u>8</u>	<u>8</u>	37	25	45	<u>7</u>	46	26	40
36	54	53	23	52	44	<u>7</u>	16	<u>10</u>	28	<u>5</u>	48	51

Averigüe qué cuadro corresponde a la siguiente definición:  
 Contiene 2 cuadrados de distinto tamaño, 3 rombos, 1 círculo  
 y 2 flechas que miran hacia abajo. Número 6

1	2	3	4
5	6	7	8